

FERNUNIVERSITÄT IN HAGEN

FAKULTÄT FÜR WIRTSCHAFTSWISSENSCHAFT

**GLOBALISIERUNG UND INTERNATIONALE
WIRTSCHAFTSBEZIEHUNGEN**

AUFGABEN

PRÜFER: Univ.-Prof. Dr. Helmut Wagner

TERMIN: 23. September 2016 11.30 - 13.30 Uhr

© 2016 FernUniversität in Hagen

UNBEDINGT BEACHTEN!

1. Die Klausurunterlagen bestehen aus zwei getrennten Teilen: einem **Aufgabenteil** und einem **Lösungsteil**. Kontrollieren Sie bitte, ob Ihre Klausurunterlagen vollständig sind. Nur der Lösungsteil wird am Ende der Klausur eingesammelt.
2. Der Aufgabenteil enthält **4** Aufgaben, von denen **alle** zu bearbeiten sind.
3. Tragen Sie Ihre Lösungen **nur** in die mit "L" gekennzeichneten Felder des Lösungsteils ein. **Nur der Inhalt dieser Felder wird bewertet. Überschreiten Sie die vorgesehenen Lösungsfelder nicht.** Für Notizen, Skizzen u. Ä. stehen Ihnen die Blattrückseiten und Konzeptblätter zur Verfügung. Insgesamt können **100 Punkte** erreicht werden.
4. Außer Schreibgeräten (Kugelschreiber, Füllfederhalter, Zeichendreieck o. Ä.) sind **keine** Hilfsmittel zugelassen.
5. Sie haben für diese Klausur **120** Minuten Zeit.
6. Bitte unterschreiben Sie Ihre Klausur auf dem letzten Lösungsblatt.

PUNKTEVERTEILUNG

Aufgabe	Punkte	
1	50	
2	25	
3	15	
4	10	

GESAMT 100

Aufgabe 1 (50 Punkte)

In der entwicklungspolitischen Praxis sieht man häufig, dass es Probleme bei der Umsetzung von entwicklungspolitischen Reformprogrammen gibt. Erläutern Sie die politökonomischen und soziokulturellen Erklärungsansätze für diese Umsetzungsprobleme!

Aufgabe 2 (25 Punkte)

a) Betrachten Sie das AK-Modell. Gegeben seien folgende Gleichungen:

$$(1) \dot{k} = \bar{s}y - (\bar{n} + \bar{\delta})k$$

$$(2) y = \bar{A}k$$

Symbolverzeichnis

\bar{A} : Technologiestandortparameter

\bar{s} : Sparquote

k : Kapitalintensität

$\bar{\delta}$: Abschreibungsrate

y : realer Pro-Kopf-Output

\bar{n} : Wachstumsrate der Bevölkerung

Konstante exogene Größen sind mit einem Querstrich versehen. Ein Punkt auf einer Variablen kennzeichnet die Ableitung nach der Zeit.

Veranschaulichen Sie in dem vorgegebenen Diagramm, wie sich eine Erhöhung des Technologiestandortparameters auf die Wachstumsrate der Kapitalintensität auswirkt!

b) Erläutern Sie jeweils kurz die folgenden drei Ansätze der „Neuen Wachstumstheorie“: Modelle der Humankapitalakkumulation, Modelle des Learning-by-doing und Modelle der Forschung und Entwicklung!

Aufgabe 3 (15 Punkte)

In dieser Aufgabe geht es um das Einkommensmodell einer kleinen offenen Volkswirtschaft mit flexiblem Wechselkurs und rigidem Preisniveau. Unterstellen Sie im Folgenden inhomogene Güter und Finanzaktiva. Stellen Sie die Auswirkungen einer restriktiven Geldpolitik in der vorgegebenen Grafik dar!

Aufgabe 4 (10 Punkte)

Erläutern Sie jeweils kurz die folgenden Effekte einer Zollerhebung: Verbrauchs-, Schutz-, Handelsbilanz-, Einnahme- sowie Umverteilungseffekt! Unterstellen Sie den Fall des kleinen Landes!

FERNUNIVERSITÄT IN HAGEN

FAKULTÄT FÜR WIRTSCHAFTSWISSENSCHAFT

--	--	--	--	--	--	--

Matrikelnummer

NAME:

VORNAME:

**GLOBALISIERUNG UND INTERNATIONALE
WIRTSCHAFTSBEZIEHUNGEN**

LÖSUNGEN

PRÜFER: Univ.-Prof. Helmut Wagner

TERMIN: 23. September 2016 11.30 - 13.30 Uhr

PUNKTE: NOTE:

DATUM: UNTERSCHRIFT(EN)
der/des Prüfer(s):

© 2016 FernUniversität in Hagen

UNBEDINGT BEACHTEN!

1. Die Klausurunterlagen bestehen aus zwei getrennten Teilen: einem **Aufgabenteil** und einem **Lösungsteil**. Kontrollieren Sie bitte, ob Ihre Klausurunterlagen vollständig sind. Nur der Lösungsteil wird am Ende der Klausur eingesammelt.
2. Der Aufgabenteil enthält **4** Aufgaben, von denen **alle** zu bearbeiten sind.
3. Tragen Sie Ihre Lösungen **nur** in die mit "L" gekennzeichneten Felder des Lösungsteils ein. **Nur der Inhalt dieser Felder wird bewertet. Überschreiten Sie die vorgesehenen Lösungsfelder nicht.** Für Notizen, Skizzen u. Ä. stehen Ihnen die Blattrückseiten und Konzeptblätter zur Verfügung. Insgesamt können **100 Punkte** erreicht werden.
4. Außer Schreibgeräten (Kugelschreiber, Füllfederhalter, Zeichendreieck o. Ä.) sind **keine** Hilfsmittel zugelassen.
5. Sie haben für diese Klausur **120** Minuten Zeit.
6. Bitte unterschreiben Sie Ihre Klausur auf dem letzten Lösungsblatt.


PUNKTEVERTEILUNG

Aufgabe	Punkte	
1	50	
2	25	
3	15	
4	10	

GESAMT 100


AUFGABE 1 (50 PUNKTE)

L	
50	



AUFGABE 1

L	
50	



AUFGABE 1

L	
50	



AUFGABE 1


L	
50	



AUFGABE 1

L	
50	

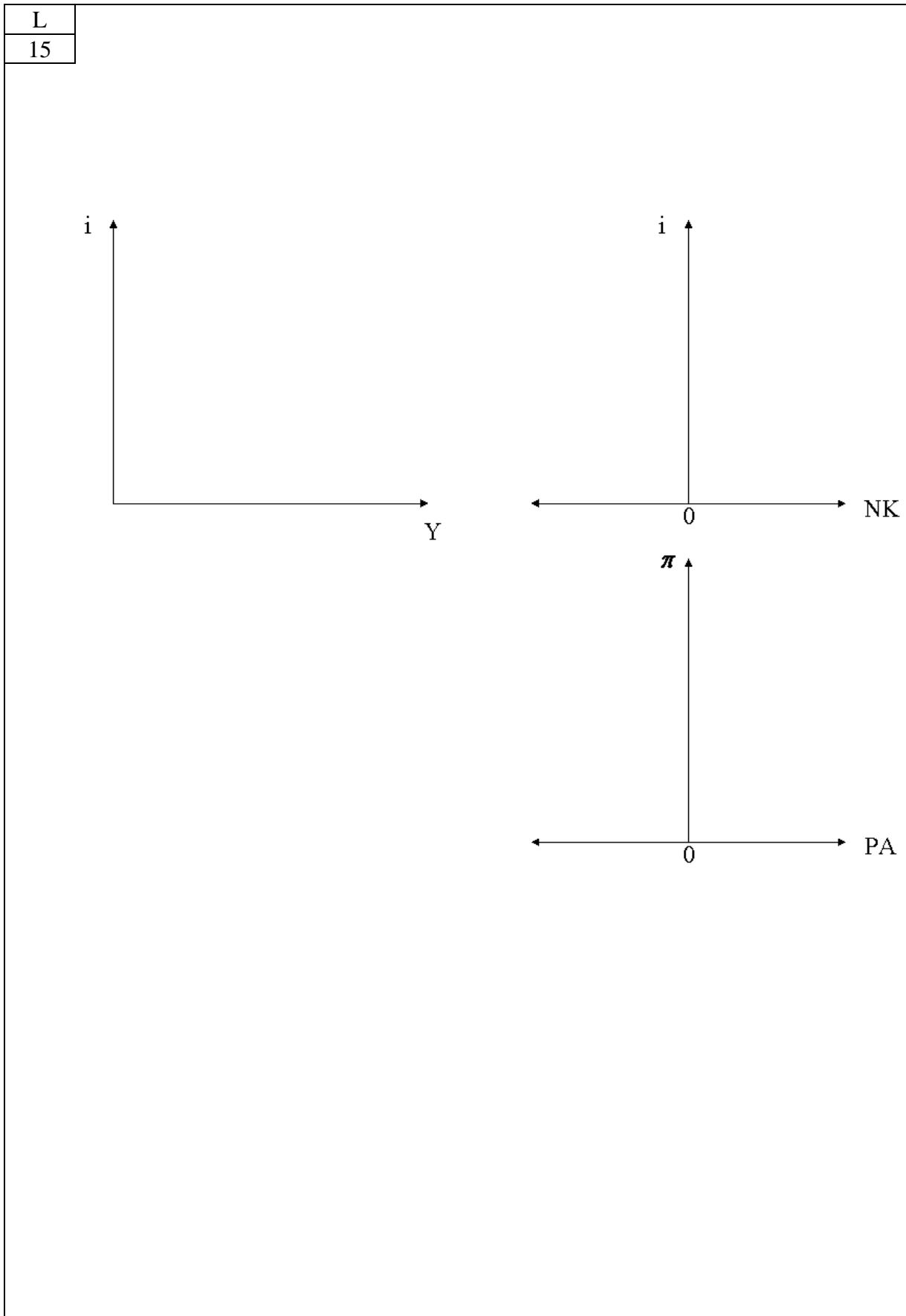


AUFGABE 2 (25 PUNKTE)**2a)**

AUFGABE 2


2b)

L
15

AUFGABE 3 (15 PUNKTE)

AUFGABE 4 (10 PUNKTE)

L	
10	



Konzeptpapier

Konzeptpapier

Konzeptpapier