

FERNUNIVERSITÄT IN HAGEN

FAKULTÄT FÜR WIRTSCHAFTSWISSENSCHAFT

EUROPÄISCHE WIRTSCHAFTSPOLITIK

AUFGABEN

PRÜFER: Univ.-Prof. Dr. Helmut Wagner

TERMIN: 23. September 2016 14.00 – 16.00 Uhr

© 2016 FernUniversität in Hagen

UNBEDINGT BEACHTEN!

1. Die Klausurunterlagen bestehen aus zwei getrennten Teilen: einem **Aufgabenteil** und einem **Lösungsteil**. Kontrollieren Sie bitte, ob Ihre Klausurunterlagen vollständig sind. Nur der Lösungsteil wird am Ende der Klausur eingesammelt.
2. Der Aufgabenteil enthält **2** zu bearbeitende Aufgaben.
3. Tragen Sie Ihre Lösungen **nur** in die mit "L" gekennzeichneten Felder des Lösungsteils ein. **Nur der Inhalt dieser Felder wird bewertet. Überschreiten Sie die vorgesehenen Lösungsfelder nicht.** Für Notizen, Skizzen u. Ä. stehen Ihnen die Blattrückseiten und Konzeptblätter zur Verfügung. Insgesamt können **100 Punkte** erreicht werden.
4. Außer Schreibgeräten (Kugelschreiber, Füllfederhalter, Zeichendreieck o. Ä.) sind **keine** Hilfsmittel zugelassen.
5. Sie haben für diese Klausur **120** Minuten Zeit.
6. Bitte unterschreiben Sie Ihre Klausur auf dem letzten Lösungsblatt.

PUNKTEVERTEILUNG

Aufgabe	Punkte	
1	50	
2	50	

GESAMT **100**

Aufgabe 1 (50 Punkte)

Verdeutlichen Sie das Konzept des „konservativen“ unabhängigen Zentralbankers im Sinne von Rogoff! Erläutern Sie auch die ökonomischen Vor- und Nachteile, die mit einer Delegation der Geldpolitik an einen „konservativen“ unabhängigen Zentralbanker verbunden sind!

(Hinweis: Eine formal-mathematische Behandlung der Thematik ist nicht notwendig!)

Aufgabe 2 (50 Punkte)

a) (10 Punkte)

Regionale Integration kann sich in verschiedenen Ausprägungen des Abbaus von Beschränkungen und der Zusammenarbeit der Wirtschaftspolitik niederschlagen. Nennen Sie die fünf zentralen Stufen bzw. Formen der Integration!

b) (10 Punkte)

Damit ein EU-Mitgliedstaat an der Währungsunion teilnehmen kann, müssen die Maastrichter Konvergenzkriterien erfüllt sein. Dazu gehört auch der Wechselkursmechanismus II (WKM II). Erläutern Sie Ziel und Wirkungsweise des WKM III!

c) (6 Punkte)

Das im Rahmen der „Europa 2020“-Strategie formulierte übergeordnete Wachstumsziel stellt drei Prioritäten in den Vordergrund, die sich gegenseitig verstärken sollen. Nennen und beschreiben Sie diese kurz!

d) (12 Punkte)

Mit der Teilnahme an der Europäischen Währungsunion ist unter anderem die Hoffnung auf Kostensenkungen verbunden. Nennen und beschreiben Sie vier dieser Effekte!

e) (12 Punkte)

Das folgende Modell sei gegeben:

$$(1) L = \frac{1}{2} E(\pi^2 + b \cdot (U - c \cdot U_n)^2) \quad \text{mit } b, U_n > 0, c < 1$$

$$(2) U = U_n - (\pi - \pi^e) + \varepsilon \quad \text{mit } E(\pi) = 0, E(\varepsilon^2) > 0 = \text{const.}$$

b, c, U_n	Parameter	π	Inflationsrate
E	Erwartungswertoperator	π^e	erwartete Inflationsrate
ε	stochast. Angebotsschock	U	Arbeitslosigkeit
L	Verlustfunktion der Zentralbank		

Berechnen Sie die Inflationsrate unter der Annahme, dass die Zentralbank ihre Verlustfunktion minimieren will und sich hierzu diskretionär verhält! Unterstellen Sie hierbei, dass die Parameter b , c , und U_n allen Wirtschaftssubjekten bekannt sind. Gehen Sie außerdem von der Annahme rationaler Erwartungen aus!

FERNUNIVERSITÄT IN HAGEN

FAKULTÄT FÜR WIRTSCHAFTSWISSENSCHAFT

--	--	--	--	--	--	--

Matrikelnummer

NAME:

VORNAME:

EUROPÄISCHE WIRTSCHAFTSPOLITIK

LÖSUNGEN

TERMIN: 23. September 2016 14.00 – 16.00 Uhr

PRÜFER: Univ.-Prof. Dr. Helmut Wagner

PUNKTE:

NOTE:

DATUM:

UNTERSCHRIFT(EN)
der/des Prüfer(s):

© 2016 FernUniversität in Hagen

UNBEDINGT BEACHTEN!

1. Die Klausurunterlagen bestehen aus zwei getrennten Teilen: einem **Aufgabenteil** und einem **Lösungsteil**. Kontrollieren Sie bitte, ob Ihre Klausurunterlagen vollständig sind. Nur der Lösungsteil wird am Ende der Klausur eingesammelt.
2. Der Aufgabenteil enthält **2** zu bearbeitende Aufgaben.
3. Tragen Sie Ihre Lösungen **nur** in die mit "L" gekennzeichneten Felder des Lösungsteils ein. **Nur der Inhalt dieser Felder wird bewertet. Überschreiten Sie die vorgesehenen Lösungsfelder nicht.** Für Notizen, Skizzen u. Ä. stehen Ihnen die Blattrückseiten und Konzeptblätter zur Verfügung. Insgesamt können **100 Punkte** erreicht werden.
4. Außer Schreibgeräten (Kugelschreiber, Füllfederhalter, Zeichendreieck o. Ä.) sind **keine** Hilfsmittel zugelassen.
5. Sie haben für diese Klausur **120** Minuten Zeit.
6. Bitte unterschreiben Sie Ihre Klausur auf dem letzten Lösungsblatt.


PUNKTEVERTEILUNG

Aufgabe	Punkte	
1	50	
2	50	

GESAMT **100**


AUFGABE 1 (50 PUNKTE)

L	
50	




AUFGABE 1

L	
50	




AUFGABE 1

L	
50	




AUFGABE 1

L	
50	




AUFGABE 1

L	
50	



AUFGABE 2 (50 PUNKTE)**2a)**


L	
10	



AUFGABE 2

2b)

L	
10	




AUFGABE 2**2c)**

L
6

AUFGABE 2

2d)

L	
12	



AUFGABE 2

2d)

L
12

AUFGABE 2**2e)**

L
12

Konzeptpapier

Konzeptpapier

Konzeptpapier