

FERNUNIVERSITÄT IN HAGEN

FAKULTÄT FÜR WIRTSCHAFTSWISSENSCHAFT

**GLOBALISIERUNG UND INTERNATIONALE
WIRTSCHAFTSBEZIEHUNGEN**

AUFGABEN

PRÜFER: Univ.-Prof. Dr. Helmut Wagner

TERMIN: 15. März 2018 14.00 - 16.00 Uhr

© 2018 FernUniversität in Hagen

UNBEDINGT BEACHTEN!

1. Die Klausurunterlagen bestehen aus zwei getrennten Teilen: einem **Aufgabenteil** und einem **Lösungsteil**. Kontrollieren Sie bitte, ob Ihre Klausurunterlagen vollständig sind. Nur der Lösungsteil wird am Ende der Klausur eingesammelt.
2. Der Aufgabenteil enthält **5** Aufgaben, von denen **alle** zu bearbeiten sind.
3. Tragen Sie Ihre Lösungen **nur** in die mit "L" gekennzeichneten Felder des Lösungsteils ein. **Nur der Inhalt dieser Felder wird bewertet. Überschreiten Sie die vorgesehenen Lösungsfelder nicht.** Für Notizen, Skizzen u. Ä. stehen Ihnen die Blattrückseiten und Konzeptblätter zur Verfügung. Insgesamt können **100 Punkte** erreicht werden.
4. Außer Schreibgeräten (Kugelschreiber, Füllfederhalter, Zeichendreieck o. Ä.) sind **keine** Hilfsmittel zugelassen.
5. Sie haben für diese Klausur **120** Minuten Zeit.
6. Bitte unterschreiben Sie Ihre Klausur auf dem letzten Lösungsblatt.

PUNKTEVERTEILUNG

Aufgabe	Punkte	
1	50	
2	10	
3	10	
4	15	
5	15	
GESAMT	100	

Aufgabe 1 (50 Punkte)

Stellen Sie die neoklassischen Ansätze zur Erklärung von Unterentwicklung dar! Erläutern Sie hierbei jeden Ansatz kurz und gehen Sie auf die entwicklungspolitischen Strategieimplikationen dieser Ansätze ein!

Aufgabe 2 (10 Punkte)

In dieser Aufgabe geht es um das AK-Modell. Gegeben seien die folgenden Gleichungen:

$$(1) \quad \dot{k} = \bar{s}y - (\bar{n} + \bar{\delta})k$$

$$(2) \quad y = \bar{A}k$$

Symbolverzeichnis

\bar{A} : Technologieparameter

\bar{s} : Sparquote

k : Kapitalintensität

$\bar{\delta}$: Abschreibungsrate

y : realer Pro-Kopf-Output

\bar{n} : Wachstumsrate der Bevölkerung

Konstante exogene Größen sind mit einem Querstrich versehen. Ein Punkt auf einer Variablen kennzeichnet die Ableitung nach der Zeit.

Veranschaulichen Sie in dem vorgegebenen Diagramm, wie sich ein Rückgang der Abschreibungsrate auf die Wachstumsrate der Kapitalintensität auswirkt!

Aufgabe 3 (10 Punkte)

In dieser Aufgabe geht es um das Tempo der entwicklungspolitischen Reformen. Diskutieren Sie kurz die „Schocktherapie“ und den „Gradualismus“!

Aufgabe 4 (15 Punkte)

In dieser Aufgabe geht es um das Einkommensmodell einer kleinen offenen Volkswirtschaft mit festem Wechselkurs, rigidem Preisniveau und ohne Neutralisierungspolitik. Unterstellen Sie inhomogene Güter und Finanzaktiva. Stellen Sie die Auswirkungen eines Anstiegs des ausländischen Zinssatzes in der vorgegebenen Grafik dar!

Aufgabe 5 (15 Punkte)

In der vorgegebenen Grafik sei P_0 der Preis ohne internationalen Handel und P_1 der Weltmarktpreis des Gutes x . Stellen Sie die Effekte der Aufhebung eines prohibitiv hohen Zolls grafisch dar und kennzeichnen Sie den Verbrauchs-, Schutz-, Handelsbilanz-, Einnahme- sowie Umverteilungseffekt! Unterstellen Sie den Fall des kleinen Landes!

FERNUNIVERSITÄT IN HAGEN

FAKULTÄT FÜR WIRTSCHAFTSWISSENSCHAFT

--	--	--	--	--	--	--

Matrikelnummer

NAME:

VORNAME:

**GLOBALISIERUNG UND INTERNATIONALE
WIRTSCHAFTSBEZIEHUNGEN**

LÖSUNGEN

PRÜFER: Univ.-Prof. Helmut Wagner

TERMIN: 15. März 2018 14.00 - 16.00 Uhr

PUNKTE: NOTE:

DATUM: UNTERSCHRIFT(EN)
der/des Prüfer(s):

© 2018 FernUniversität in Hagen

UNBEDINGT BEACHTEN!


1. Die Klausurunterlagen bestehen aus zwei getrennten Teilen: einem **Aufgabenteil** und einem **Lösungsteil**. Kontrollieren Sie bitte, ob Ihre Klausurunterlagen vollständig sind. Nur der Lösungsteil wird am Ende der Klausur eingesammelt.
2. Der Aufgabenteil enthält **5** Aufgaben, von denen **alle** zu bearbeiten sind.
3. Tragen Sie Ihre Lösungen **nur** in die mit "L" gekennzeichneten Felder des Lösungsteils ein. **Nur der Inhalt dieser Felder wird bewertet. Überschreiten Sie die vorgesehenen Lösungsfelder nicht.** Für Notizen, Skizzen u. Ä. stehen Ihnen die Blattrückseiten und Konzeptblätter zur Verfügung. Insgesamt können **100 Punkte** erreicht werden.
4. Außer Schreibgeräten (Kugelschreiber, Füllfederhalter, Zeichendreieck o. Ä.) sind **keine** Hilfsmittel zugelassen.
5. Sie haben für diese Klausur **120** Minuten Zeit.
6. Bitte unterschreiben Sie Ihre Klausur auf dem letzten Lösungsblatt.

PUNKTEVERTEILUNG

Aufgabe	Punkte	
1	50	
2	10	
3	10	
4	15	
5	15	
GESAMT	100	

AUFGABE 1 (50 PUNKTE)

L	
50	




AUFGABE 1

L	
50	



AUFGABE 1

L	
50	



AUFGABE 1


L	
50	



AUFGABE 1

L	
50	

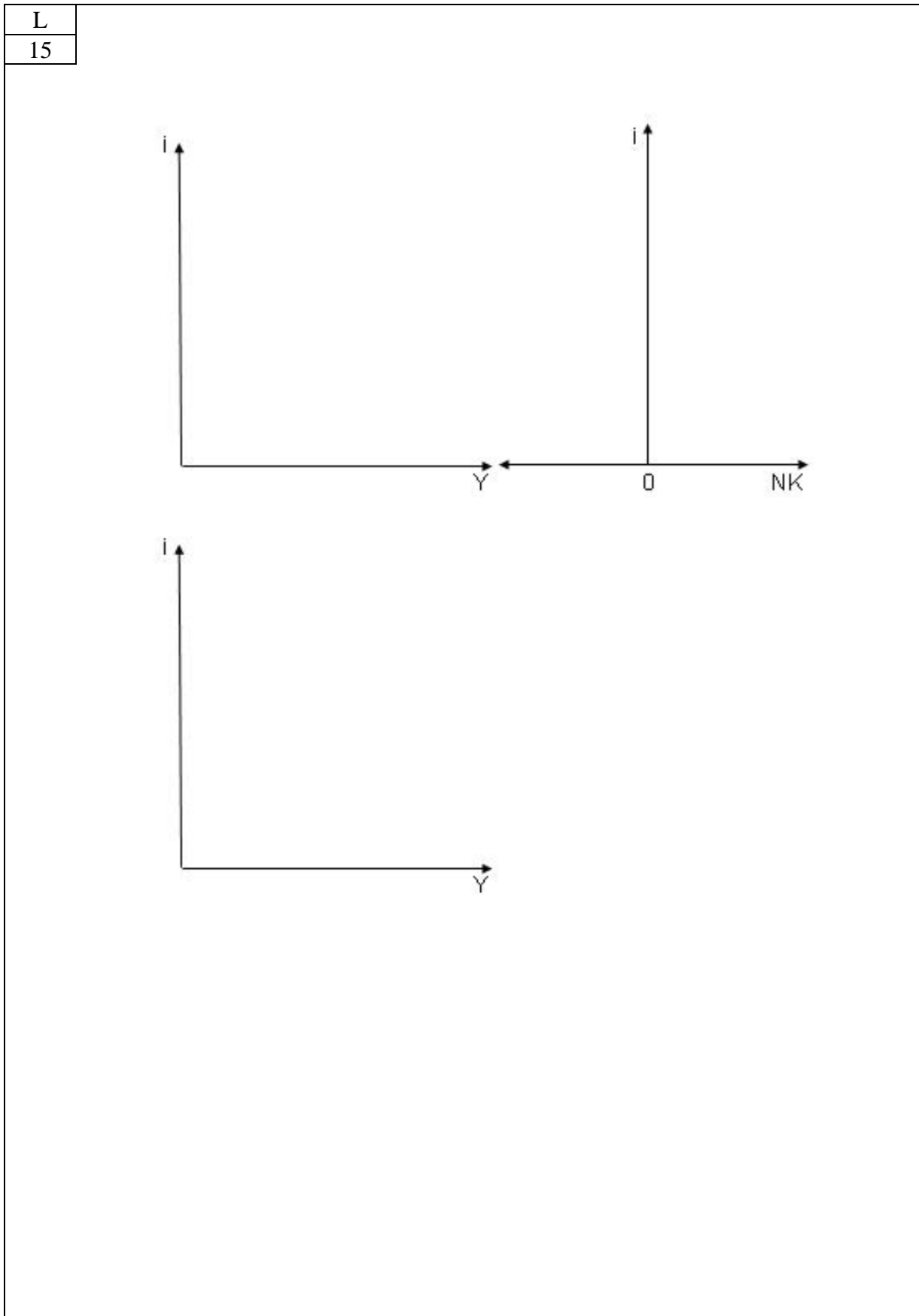


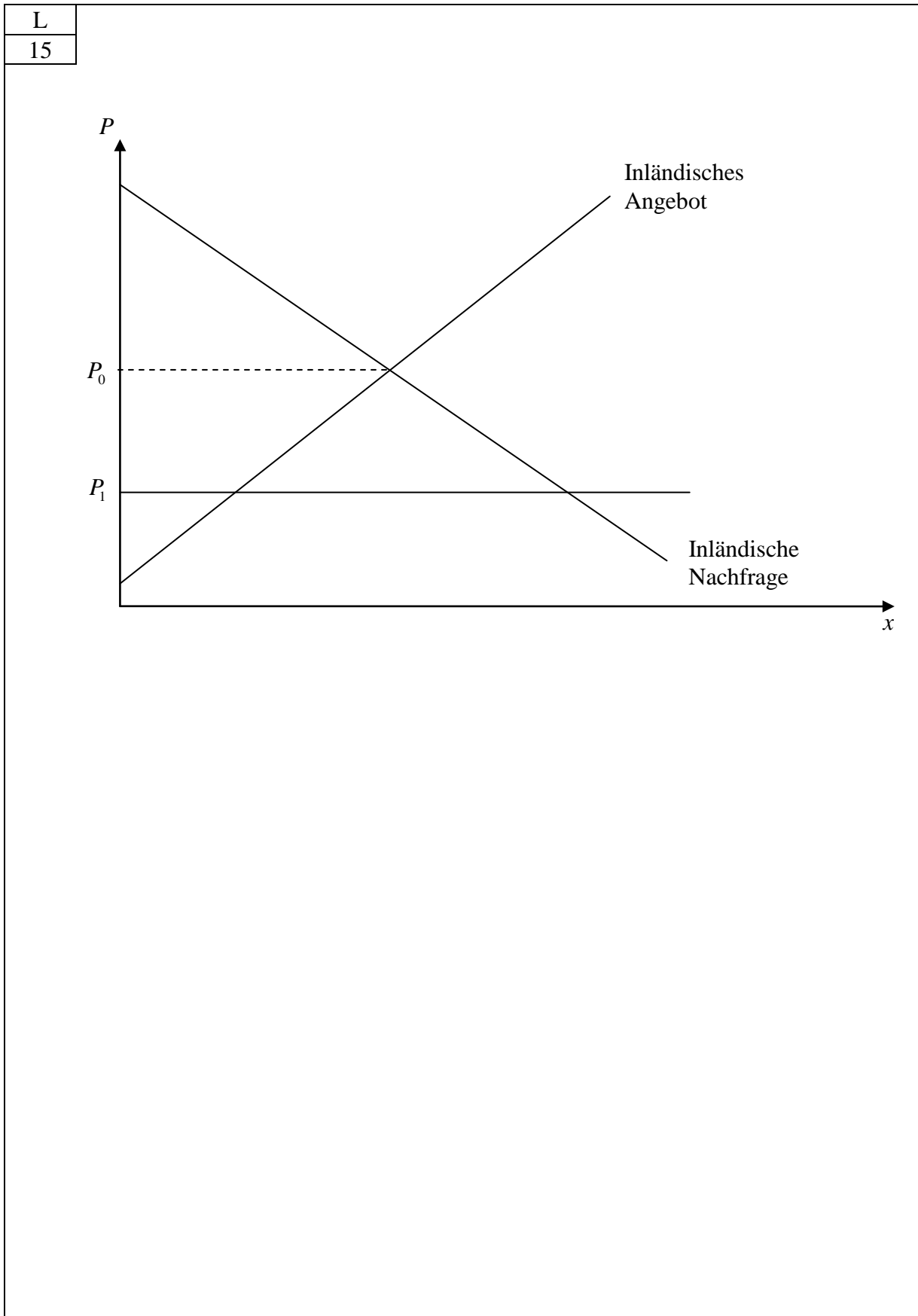
AUFGABE 2 (10 PUNKTE)

AUFGABE 3 (10 PUNKTE)

L	
10	



AUFGABE 4 (15 PUNKTE)

AUFGABE 5 (15 PUNKTE)

Konzeptpapier

Konzeptpapier

Konzeptpapier