

FERNUNIVERSITÄT IN HAGEN

FAKULTÄT FÜR WIRTSCHAFTSWISSENSCHAFT

**GLOBALISIERUNG UND INTERNATIONALE
WIRTSCHAFTSBEZIEHUNGEN**

AUFGABEN

PRÜFER: Univ.-Prof. Dr. Helmut Wagner

TERMIN: 21. März 2019 14.00 – 16.00 Uhr

© 2019 FernUniversität in Hagen

UNBEDINGT BEACHTEN!

1. Die Klausurunterlagen bestehen aus zwei getrennten Teilen: einem **Aufgabenteil** und einem **Lösungsteil**. Kontrollieren Sie bitte, ob Ihre Klausurunterlagen vollständig sind. Nur der Lösungsteil wird am Ende der Klausur eingesammelt.
2. Der Aufgabenteil enthält **3** Aufgaben, von denen **alle** zu bearbeiten sind.
3. Tragen Sie Ihre Lösungen **nur** in die mit "L" gekennzeichneten Felder des Lösungsteils ein. **Nur der Inhalt dieser Felder wird bewertet. Überschreiten Sie die vorgesehenen Lösungsfelder nicht.** Für Notizen, Skizzen u. Ä. stehen Ihnen die Blattrückseiten und Konzeptblätter zur Verfügung. Insgesamt können **100 Punkte** erreicht werden.
4. Außer Schreibgeräten (Kugelschreiber, Füllfederhalter, Zeichendreieck o. Ä.) sind **keine** Hilfsmittel zugelassen.
5. Sie haben für diese Klausur **120** Minuten Zeit.
6. Bitte unterschreiben Sie Ihre Klausur auf dem letzten Lösungsblatt.

PUNKTEVERTEILUNG

Aufgabe	Punkte	
1	50	
2	25	
3	25	
GESAMT	100	

Aufgabe 1 (50 Punkte)

In der Praxis gibt es häufig Probleme bei der Umsetzung von entwicklungspolitischen Reformprogrammen. Nennen und erläutern Sie diesbezüglich vier Erklärungsmuster. Teilen Sie diese vier Erklärungsmuster auch nach Ursachen sowie nach Bereitschaft der Regierung zur Umsetzung der Reformen ein (z.B. in Form einer Tabelle).

Aufgabe 2 (25 Punkte)

a) Betrachten Sie das AK-Modell. Gegeben seien folgende Gleichungen:

$$(1) \dot{k} = \bar{s}y - (\bar{n} + \bar{\delta})k$$

$$(2) y = \bar{A}k$$

Symbolverzeichnis

\bar{A} : Technologieparameter

\bar{s} : Sparquote

k : Kapitalintensität

$\bar{\delta}$: Abschreibungsrate

y : realer Pro-Kopf-Output

\bar{n} : Wachstumsrate der Bevölkerung

Konstante exogene Größen sind mit einem Querstrich versehen. Ein Punkt auf einer Variablen kennzeichnet die Ableitung nach der Zeit.

Veranschaulichen Sie in dem vorgegebenen Diagramm, wie sich ein Rückgang der Wachstumsrate der Bevölkerung auf die Wachstumsrate der Kapitalintensität auswirkt!

b) Nennen und erläutern Sie jeweils kurz die drei Ansätze der „Neuen Wachstumstheorie“!

Aufgabe 3 (25 Punkte)

In dieser Aufgabe geht es um das Einkommensmodell einer kleinen offenen Volkswirtschaft mit festem Wechselkurs, rigidem Preisniveau und ohne Neutralisierungspolitik. Unterstellen Sie im Folgenden inhomogene Güter und Finanzaktiva.

a) Stellen Sie die Auswirkungen einer Erhöhung des ausländischen Preisniveaus in der vorgegebenen Grafik dar!

b) Was versteht man unter einer Normalreaktion des Außenbeitrags? Erläutern Sie kurz diesen Begriff vor dem Hintergrund der in Teilaufgabe a) angenommenen Bedingungen!

FERNUNIVERSITÄT IN HAGEN

FAKULTÄT FÜR WIRTSCHAFTSWISSENSCHAFT

--	--	--	--	--	--	--

Matrikelnummer

NAME:

VORNAME:

**GLOBALISIERUNG UND INTERNATIONALE
WIRTSCHAFTSBEZIEHUNGEN**

LÖSUNGEN

PRÜFER: Univ.-Prof. Helmut Wagner

TERMIN: 21. März 2019 14.00 – 16.00 Uhr

PUNKTE: NOTE:

DATUM: UNTERSCHRIFT(EN)
der/des Prüfer(s):

© 2019 FernUniversität in Hagen

UNBEDINGT BEACHTEN!

1. Die Klausurunterlagen bestehen aus zwei getrennten Teilen: einem **Aufgabenteil** und einem **Lösungsteil**. Kontrollieren Sie bitte, ob Ihre Klausurunterlagen vollständig sind. Nur der Lösungsteil wird am Ende der Klausur eingesammelt.
2. Der Aufgabenteil enthält **3** Aufgaben, von denen **alle** zu bearbeiten sind.
3. Tragen Sie Ihre Lösungen **nur** in die mit "L" gekennzeichneten Felder des Lösungsteils ein. **Nur der Inhalt dieser Felder wird bewertet. Überschreiten Sie die vorgesehenen Lösungsfelder nicht.** Für Notizen, Skizzen u. Ä. stehen Ihnen die Blattrückseiten und Konzeptblätter zur Verfügung. Insgesamt können **100 Punkte** erreicht werden.
4. Außer Schreibgeräten (Kugelschreiber, Füllfederhalter, Zeichendreieck o. Ä.) sind **keine** Hilfsmittel zugelassen.
5. Sie haben für diese Klausur **120** Minuten Zeit.
6. Bitte unterschreiben Sie Ihre Klausur auf dem letzten Lösungsblatt.

PUNKTEVERTEILUNG

Aufgabe	Punkte	
1	50	
2	25	
3	25	
GESAMT	100	


AUFGABE 1 (50 PUNKTE)

L	
50	




AUFGABE 1

L	
50	




AUFGABE 1

L	
50	




AUFGABE 1


L	
50	



AUFGABE 1

L	
50	



AUFGABE 2 (25 PUNKTE)**2a)**

AUFGABE 2**2b)**

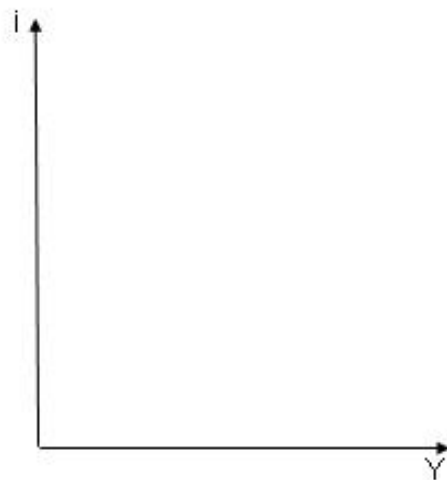
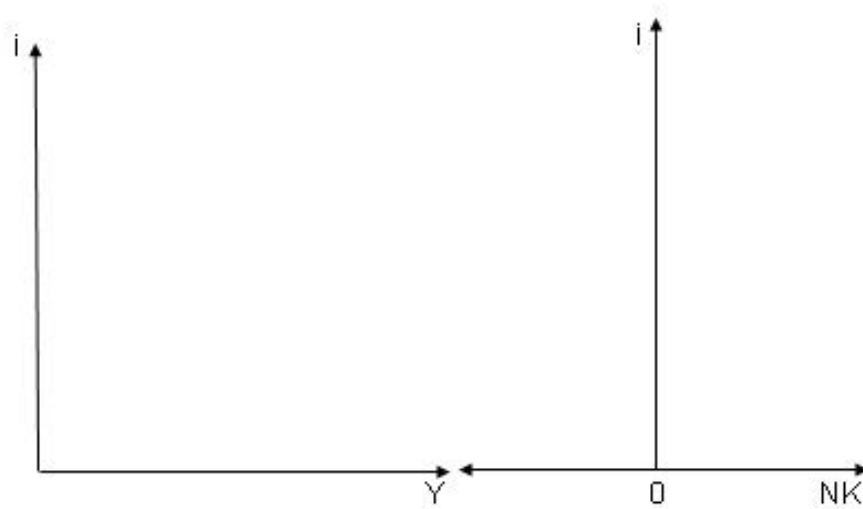
L
15

AUFGABE 2**2b)**

L
15

AUFGABE 3 (25 PUNKTE)**3a)**

L
15



AUFGABE 3**3b)**

L
10

Konzeptpapier

Konzeptpapier

Konzeptpapier